

**ШКОЛЬНЫЙ ЭТАП ВСЕРОССИЙСКОЙ ОЛИМПИАДЫ ШКОЛЬНИКОВ 2023/2024
УЧЕБНОГО ГОДА ПО ОСНОВАМ БЕЗОПАСНОСТИ ЖИЗНЕДЕЯТЕЛЬНОСТИ**

7-8 КЛАССЫ

Код/Шифр участника

Ш	Ю	Ш		
---	---	---	--	--

МОДУЛЬ 1.

Задание 1. Установите соответствие между цветовым кодом опасности и его значением

Цвет		Значение	
1	Красный	А	Безопасность
2	Жёлтый	Б	Имеются условия для возникновения опасности
3	Зелёный А	В	Потенциальная опасность
4	Оранжевый	Г	Чрезвычайная опасность
5	Салатовый	Д	Реальная опасность

1	2	3	4	5
Г+	В+	А+	Д+	Г Б

Оценочные баллы: максимальный – 20 баллов; фактический – 20 баллов

Подписи членов жюри _____

Задание 2. Соотнесите определение с понятием.

- 1) _____ - стремительный русловой поток, состоящий из смеси воды и обломков горных пород.
- 2) _____ – подземные удары и колебания земной поверхности, возникающие в результате тектонических процессов, передающиеся на большие расстояния в виде упругих колебаний.
- 3) _____ – смещение по уклону масс грунта под действием силы тяжести.
- 4) _____ – огромные массы снега, сползающие с горных склонов
- 5) _____ – отрыв и падение больших масс горных пород на крутых и обрывистых склонах гор.

А) Землетрясение; Б) Лавина; В) Обвал; Г) Сель; Д) Оползень.

1	2	3	4	5
А —	Д —	В+	Б+	В+

12

Оценочные баллы: максимальный – 20 баллов; фактический – _____ баллов
Подписи членов жюри _____

Задание 3. Вставьте в текст «Ликвидация чрезвычайных ситуаций» пропущенные термины из предложенного списка, а затем запишите получившуюся последовательность цифр выбранных ответов в приведённую ниже таблицу.

Ликвидация чрезвычайных ситуаций – это аварийно-спасательные и другие _____ (А) работы, проводимые при возникновении ЧС и направленные на _____ (Б) жизни и _____ (В) здоровья людей, снижение размеров _____ (Г) окружающей природной среде и материальных потерь, а также на _____ (Д) зон чрезвычайных ситуаций.

1. Тяжёлые; 2. Продолжение; 3. Ущерб; 4. Неотложные.
5. Спасение; 6. Сохранение; 7. Ограждение; 8. Локализация

А	Б	В	Г	Д
4	5	6	3	8

Оценочные баллы: максимальный – 20 баллов; фактический – ~~20~~ ²⁰ баллов
Подписи членов жюри _____

МОДУЛЬ 2.

Тестовые задания

Задания с одним правильным ответом

Правильный ответ – 2 балла.

1. Какой буквой обозначается запад на компасах?

- а) S; б) N; в) W; г) E.

2. Вы находитесь дома, дверь вашей квартиры пытаются открыть или взломать неизвестные лица. Ваши действия?

- а) спросите, кто там за дверью, и откроете её;
б) поднимете тревогу криками и шумом;
в) попытаетесь бежать из дома через балкон к соседям;
г) заблокируете двери любыми средствами и позвоните в полицию.

3. Какой сигнал рукой должен подать велосипедист, чтобы обозначить поворот налево?

- а) вытянутая в сторону и согнутая в локте под прямым углом вверх левая рука;
б) поднятая вверх левая или правая рука;
в) руки вытянуты в стороны или подняты вверх;
г) вытянутая в сторону и согнутая в локте под прямым углом вверх правая рука

4. Укажите номер телефона Единой дежурно-диспетчерской службы:

- а) 101; б) 112; в) 103; г) 911.

5. Вы почувствовали у себя дома запах горячей проводки. Ваше первое действие?
- а) немедленно потушить её водой;
 - б) включить свет, чтобы увидеть, где горит;
 - в) обесточить всю проводку в квартире;
 - г) извлечь из розеток все электрические вилки. —
6. В солнечный полдень тень от любого предмета на местности указывает на:
- а) север;
 - б) юг;
 - в) восток;
 - г) запад. —
7. Что нельзя делать, если Вы оказались заложником?
- а) при штурме лечь на пол;
 - б) требовать немедленного освобождения; 2
 - в) выполнять все требования террористов;
 - г) не выделяться своим поведением.
8. Можно ли пользоваться лифтом при пожаре в многоэтажном доме?
- а) можно;
 - б) нельзя; 2
 - в) можно только в сопровождении взрослых;
 - г) можно, если он остановился на вашем этаже.
9. Для второй степени термического ожога характерны следующие признаки:
- а) отёк, покраснение, появление пузырей, наполненных прозрачной жидкостью;
 - б) отёк, покраснение;
 - в) отёк, обугливание кожи с потерей чувствительности; —
 - г) обугливание мышц и костей.
10. Что нужно делать, если человек отморозил руку?
- а) растереть руку снегом;
 - б) согреть руку тёплой водой; + 2
 - в) растереть руку мягкой шерстяной тканью;
 - г) согреть руку у костра.
11. С какого возраста граждане привлекаются к частичной уголовной ответственности?
- а) с 14 лет;
 - б) с 16 лет;
 - в) с 18 лет;
 - г) с 21 года. 2
12. День спасателя Российской Федерации отмечается:
- а) 1 марта;
 - б) 4 октября;
 - в) 30 апреля; —
 - г) 27 декабря.
13. Что нужно сделать, если присосался клещ?
- а) вырезать его острым предметом;
 - б) смазать клеща маслом или жиром; 2
 - в) оторвать его пальцами и прижечь ранку;
 - г) прижечь клеща горячей спичкой.

14. Из зоны химического заражения следует выходить:

- а) по направлению ветра;
- б) против направления ветра;
- в) подождать, когда ветер стихнет;
- г) перпендикулярно направлению ветра

15. Продолжительность использования компьютера в день для Вашего возраста?

- а) не более 100 минут;
- б) не более 110 минут;
- в) не более 120 минут;
- г) не более 130 минут.

16. В каком случае жгут наложен правильно?

- а) пульс ниже жгута прощупывается;
- б) конечность ниже жгута бледная;
- в) конечность ниже жгута синее;
- г) конечность стала бесчувственной.

17. Дегазация – это

- а) обезвреживание или удаление опасных химических веществ;
- б) удаление (снижение) радиоактивного загрязнения;
- в) удаление (снижение) бактериального загрязнения;
- г) удаление членистоногих.

18. Назовите условия, при которых протекает процесс горения.

- а) условий для теплообмена, окислителя, источника воспламенения;
- б) наличие горючего вещества, окислителя, условий для теплообмена;
- в) наличие горючего вещества, условий для теплообмена, источника воспламенения;
- г) наличие горючего вещества, окислителя, источника воспламенения.

19. О чём предупреждает жёлтый мигающий сигнал светофора?

- а) впереди нерегулируемый перекрёсток;
- б) информирует, что время его действия истекает и скоро будет включен запрещающий сигнал;
- в) впереди регулируемый переход;
- г) предупреждает об опасности.

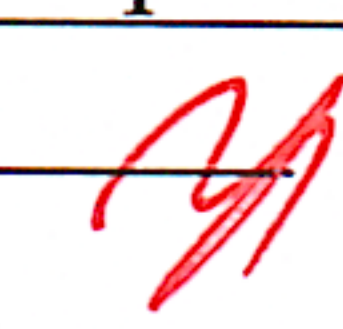
20. В какой промежуток времени принятие световоздушных ванн является наиболее опасным для здоровья человека?

- а) 11.00 – 14.00;
- б) 14.00 – 18.00;
- в) 16.00 – 18.00;
- г) 06.00 – 10.00.


Маршрутная карта практического этапа, ОБЖ, 7-8 класс,
школьный этап (II этап), 2023-2024 учебный год

ТЮМ


1.1. Оказание первой помощи пострадавшему при носовом кровотечении

№	Перечень ошибок	Штраф
1	Голова пострадавшего не наклонена вперед	25 баллов
2	Крылья носа не прижаты к перегородке	15 баллов
3	В носовые ходы не введены ватные тампоны	15 баллов
4	К переносице не приложен холод	10 баллов
Оценка задания с учётом штрафных баллов 25 - 0 =		Подпись судьи 


1.2. Вызов спасательных служб

№	Перечень ошибок	Штраф
1	Не вызваны спасательные службы	10 баллов
2	Не указан адрес места происшествия	5 баллов
3	Не указано число пострадавших	5 баллов
Оценка задания с учётом штрафных баллов 10 - 0 =		Подпись судьи 

ЗАДАНИЕ 2. Ориентирование на местности

№	Перечень ошибок	Штраф
1	Не вытянут арретир (не освобождена магнитная стрелка)	30 баллов
2	Компас не расположен в горизонтальной плоскости	20 баллов
3	Не определён север	30 баллов
4	Не определены стороны света (юг, запад, восток)	10 баллов (за каждую)
Оценка задания с учётом штрафных баллов 30 - 0 =		Подпись судьи 

ЗАДАНИЕ 3. Спасательные работы на воде.

№ п/п	Ошибки	Штраф (баллы)
1.	Заступ за контрольную линию	10
2.	Не надет спасательный жилет	10
3.	Не застёгнут спасательный жилет или опоясывающий ремень (ремни)	5
4.	Не выполнено удержание петли Александрова (вся она оказалась за контрольной линией после броска)	35
5.	Непопадание в цель с первой попытки	15
6.	Непопадание в цель со второй попытки	20
7.	Задание не выполнялось	35
Сумма штрафных баллов		
Оценка задания с учётом штрафных баллов 35 - 0		 = Подпись судьи

Итого: 100